

- Leggi con attenzione.

1)

## **I LAMPONI DEL GELATAIO**

**IL GELATAIO HA 18 LAMPONI E 3 COPPE DI GELATO DA DECORARE.  
QUANTI LAMPONI METTERÀ IN OGNI COPPA?**

- Prendi 18 oggettini e fai finta che siano lamponi.
- Raggruppa.

## **SEI RIUSCITO A RAGGRUPPARE?**

Purtroppo non posso sentire la tua risposta, ma spero che tu mi abbia detto: “ No, non sono riuscito a raggruppare, perché NON SO QUANTI LAMPONI DEVO METTERE IN OGNI COPPA!”

- Rileggi la storia del gelataio della scorsa settimana. Ti accorgerai che è leggermente diversa dalla nuova storia del gelataio.  
**Nella storia del gelataio e delle fragole**, il gelataio aveva deciso quante fragole mettere in ogni coppa, ma non sapeva quante coppe avrebbe decorato.  
**Nella storia del gelataio e dei lamponi**, il gelataio sa che vuole decorare 3 coppe, ma non sa quanti lamponi metterà in ogni coppa.

\*\*\*\*\*

**NELLA STORIA DEL GELATAIO E DEI LAMPONI NON SI DEVE RAGGRUPPARE, MA ... DISTRIBUIRE!**

- Rileggi la storia.

## **I LAMPONI DEL GELATAIO**

**IL GELATAIO HA 18 LAMPONI E 3 COPPE DI GELATO DA DECORARE.  
QUANTI LAMPONI METTERÀ IN OGNI COPPA?**

- Lascia i 18 oggettini, i finti lamponi, sul tavolo.
- Prendi 3 piatti e fai finta che siano coppe di gelato.
- Ora distribuisce i lamponi, ma **RICORDATI CHE IN MATEMATICA SI DIVIDE SEMPRE IN PARTI UGUALI, CIOÈ NON PUOI METTERE 4 LAMPONI NELLA PRIMA COPPA, 9 NELLA SECONDA E 5 NELLA TERZA!**  
**IN OGNI COPPA DEVE ESSERCI LO STESSO NUMERO DI LAMPONI.**

- **COME SI FA A DISTRIBUIRE?**

Metti 1 lampone nella prima coppa, 1 lampone nella seconda coppa, 1 lampone nella terza coppa, poi ricomincia: 1 lampone nella prima coppa, 1 lampone nella seconda coppa, 1 lampone nella terza coppa, dopo ricomincia ...

Continua a distribuire fino a quando avrai finito tutti i lamponi.

- Alla fine conta quanti lamponi ci sono in ogni coppa.

➤ ORA BISOGNA RAPPRESENTARE LA STORIA CON IL DISEGNO E DISTRIBUIRE.

2)

Disegna i 18 lamponi nelle scatole del Draghetto, sotto disegna le 3 coppe.



Poi distribuisce i lamponi nelle coppe facendo così: cancella con una X il primo lampone e disegnalolo nella prima coppa, poi cancella con una X il secondo lampone e disegnalolo nella seconda coppa, dopo cancella con una X il terzo lampone e disegnalolo nella terza coppa. Ora ricomincia: cancella con una X il quarto lampone e disegnalolo nella prima coppa ... continua in questo modo fino a quando avrai finito i lamponi.



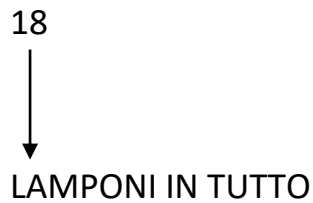
Alla fine il disegno risulterà così:



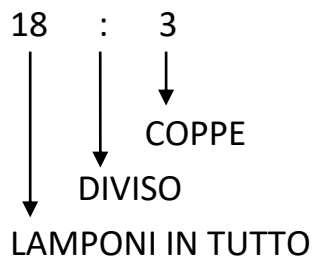
## RACCONTIAMO LA STORIA DEI LAMPONI USANDO I NUMERI.

3)

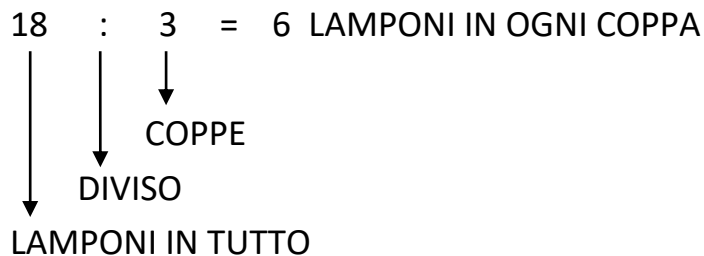
- ALL'INIZIO DELLA STORIA IL GELATAIO AVEVA **18 LAMPONI IN TUTTO**.



- POI IL GELATAIO HA DIVISO I LAMPONI, DISTRIBUENDOLI IN PARTI UGUALI NELLE **3 COPPE**.



- INFINE IL GELATAIO VEDE CHE HA MESSO **6 LAMPONI IN OGNI COPPA**.



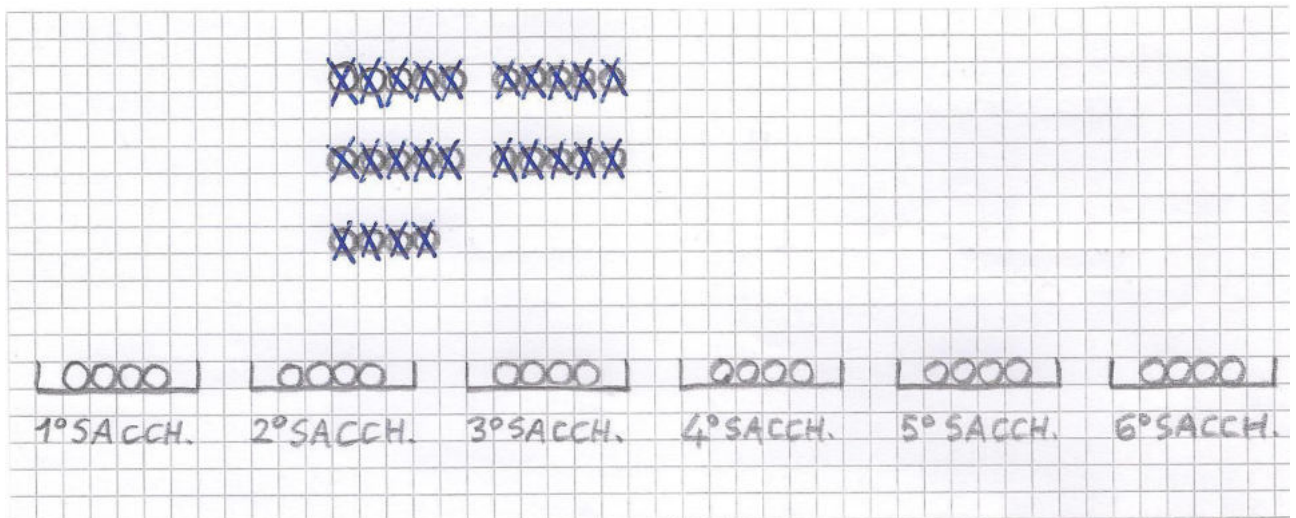
\*\*\*\*\*

## I DOLCETTI DI GIADA

4)

GIADA HA 24 DOLCETTI. PREPARA 6 SACCHETTINI UGUALI.  
QUANTI DOLCETTI METTE IN CIASCUN SACCHETTINO?

- Dopo aver letto con attenzione, prendi 24 oggettini e fai finta che siano dolcetti, prendi 6 scodelle o piatti o ciò che ti sembra più adatto e fai finta che siano sacchetti.  
Immagina di essere tu la bambina che distribuisce i dolcetti, poi conta quanti dolcetti hai messo in ciascun sacchetto.
- ORA BISOGNA RAPPRESENTARE LA STORIA CON IL DISEGNO E DISTRIBUIRE.



- ADESSO SI DEVE SCRIVERE LA DIVISIONE E LA RISPOSTA.

$$24 : 6 = 4 \text{ DOLCETTI IN CIASCUN SACCHETTINO}$$

↓  
SACCHETTINI

↓  
DOLCETTI IN TUTTO

### RISPOSTA

GIADA METTE 4 DOLCETTI IN CIASCUN SACCHETTINO.

\*\*\*\*\*

## ADESSO TOCCA A TE!!!

5)

1) Se puoi stampare le schede che ti ho inviato, taglia i problemi lungo la linea tratteggiata e incollali uno per volta sul quaderno.

Se non puoi stampare, ricopia il testo dei problemi sul quaderno.

2) Leggi attentamente più di una volta il testo del problema.

3) Prendi gli oggettini da distribuire e dei contenitori.

4) Distribuisci gli oggettini nei contenitori.

5) Rappresenta con il disegno e distribuisci.

6) Scrivi la divisione e fai le frecce con le spiegazioni.

7) Rispondi alla domanda.

SE HAI DEI DUBBI, RIVEDI LA STORIA DEI DOLCETTI DI GIADA CHE DEVI TENERE COME ESEMPIO.

\*\*\*\*\*

### I MELONI

IL FRUTTIVENDOLO DEVE SISTEMARE 35 MELONI IN 5 CASSETTE.

QUANTI MELONI METTERÀ IN OGNI CASSETTA?

---

### I CIOCCOLATINI

IL PASTICCIERE METTE 20 CIOCCOLATINI IN 4 SCATOLINE.

QUANTI CIOCCOLATINI CI SARANNO IN OGNUNA DELLE SCATOLINE?

---

### LE CARMELLE

NOEMI PORTA A SCUOLA 21 CARMELLE PER REGALARLE AI SUOI 7 AMICI.

QUANTE CARMELLE RICEVERÀ CIASCUN AMICO?

---

### I LIBRI

IN BIBLIOTECA C'È UNO SCAFFALE CON 3 RIPIANI.

LA BIBLIOTECARIA DEVE SISTEMARE 27 LIBRI.

QUANTI LIBRI POSERÀ SU OGNI RIPIANO?

---

### IMPORTANTE!!!

RICORDA CHE IN QUESTI CASI **LA DIVISIONE SERVE PER DISTRIBUIRE UNA QUANTITÀ IN PARTI UGUALI E SCOPRIRE QUANTE "COSE" CI SONO IN OGNI GRUPPO** (IN OGNI COPPA, SACCHETTO, CASSETTA, SCATOLA...) **O SCOPRIRE QUANTE "COSE" HA RICEVUTO OGNI PERSONA.**

## CONTA LE SEGUENTI DIVISIONI MISTE.

6)

$26 : 4 = \underline{\hspace{2cm}}$

$69 : 10 = \underline{\hspace{2cm}}$

$56 : 8 = \underline{\hspace{2cm}}$

$53 : 6 = \underline{\hspace{2cm}}$

$24 : 5 = \underline{\hspace{2cm}}$

$31 : 3 = \underline{\hspace{2cm}}$

$14 : 2 = \underline{\hspace{2cm}}$

$4 : 4 = \underline{\hspace{2cm}}$

$20 : 7 = \underline{\hspace{2cm}}$

$68 : 8 = \underline{\hspace{2cm}}$

$56 : 6 = \underline{\hspace{2cm}}$

$45 : 9 = \underline{\hspace{2cm}}$

$16 : 9 = \underline{\hspace{2cm}}$

$21 : 3 = \underline{\hspace{2cm}}$

$7 : 2 = \underline{\hspace{2cm}}$

$20 : 3 = \underline{\hspace{2cm}}$

$63 : 7 = \underline{\hspace{2cm}}$

$36 : 8 = \underline{\hspace{2cm}}$

$36 : 6 = \underline{\hspace{2cm}}$

$80 : 9 = \underline{\hspace{2cm}}$

$52 : 7 = \underline{\hspace{2cm}}$

---

## CONTA IN COLONNA

$455 + 99 + 274 = \underline{\hspace{2cm}}$

$78 + 667 + 206 = \underline{\hspace{2cm}}$

$901 - 586 = \underline{\hspace{2cm}}$

$700 - 624 = \underline{\hspace{2cm}}$

$480 \times 2 = \underline{\hspace{2cm}}$

$95 \times 6 = \underline{\hspace{2cm}}$

$98 \times 7 = \underline{\hspace{2cm}}$

- 
- RIPASSA LE TABELLINE! MI RACCOMANDO.
  - SE HAI BISOGNO DEL MIO AIUTO, MANDAMI UNA MAIL.
  - I PROSSIMI LAVORI DI MATEMATICA SARANNO ASSEGNATI GIOVEDÌ 16 APRILE 2020.

Un forte abbraccio e... buona Pasqua!

Maestra Daniela Barbero