

LE FARFALLE VANNO IN ... PALESTRA!

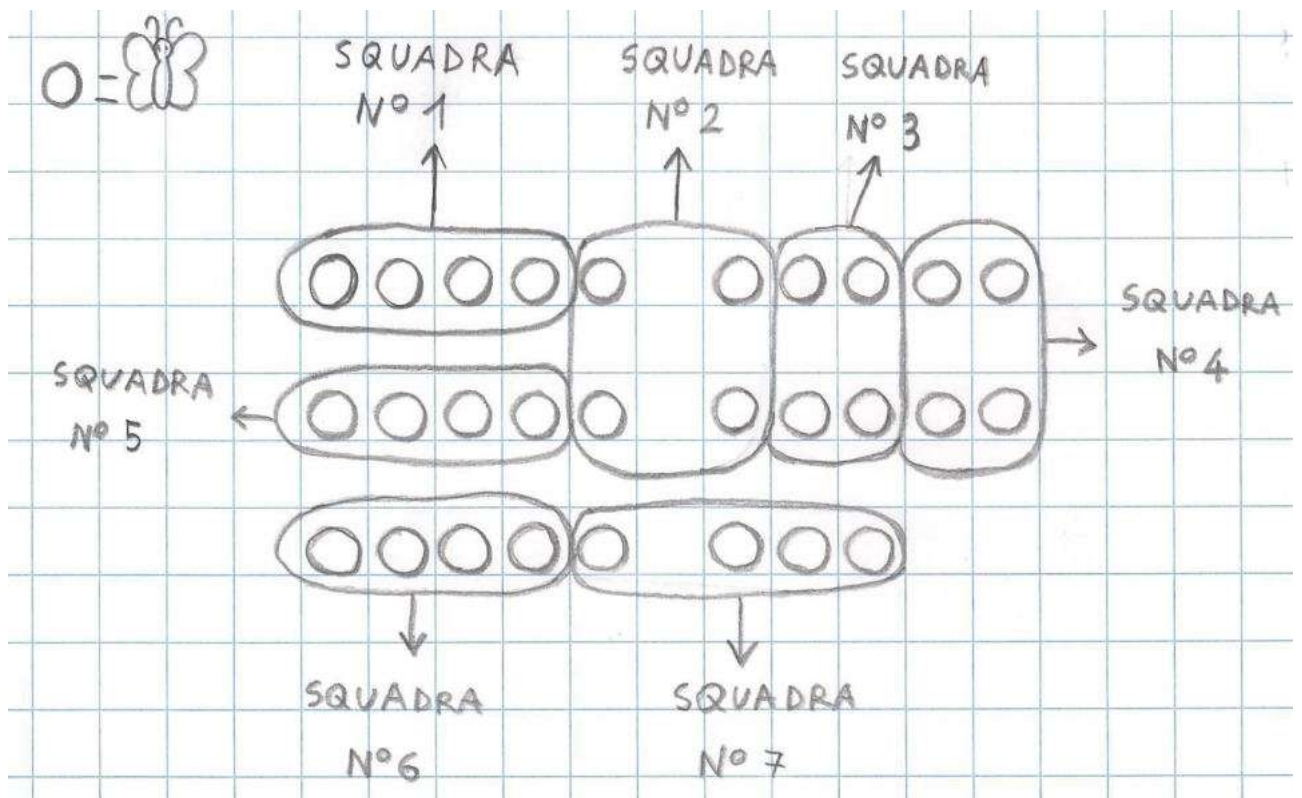
1)

- AIUTA LE FARFALLE A FORMARE DELLE SQUADRE, COME RICHIESTO DALLA LORO MAESTRA DI GINNASTICA, LA CAGNOLINA MILÙ.



- **IN PALESTRA CI SONO 28 FARFALLE.**
Prendi 28 oggettini e mettili sul tuo tavolo. Fai finta che siano farfalle.
- **OGNI SQUADRA DEVE ESSERE FORMATA DA 4 FARFALLE.**
Forma le squadre usando i tuoi oggettini.
- **QUANTE SQUADRE SI POTRANNO FORMARE?**
Conta le squadre che hai formato.

-
- ORA BISOGNA RAPPRESENTARE LA STORIA CON IL DISEGNO E RAGGRUPPARE.



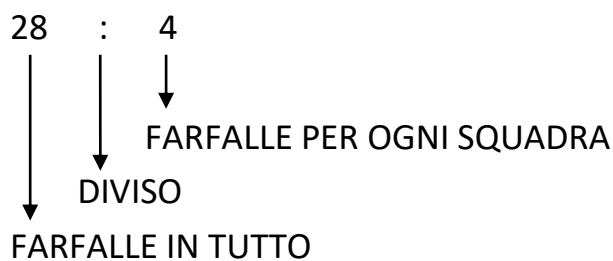
LE FARFALLE ALL'INIZIO DELLA STORIA ERANO TUTTE INSIEME, ADESSO SONO DIVISE! ABBIAMO FATTO UNA DIVISIONE!

RACCONTIAMO LA STORIA DELLE FARFALLE USANDO I NUMERI.

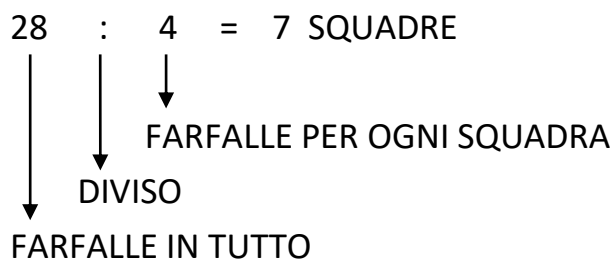
- ALL'INIZIO DELLA STORIA C'ERANO **28 FARFALLE IN TUTTO**.



- POI SI SONO **DIVISE, 4 PER OGNI SQUADRA**.



- INFINE LE FARFALLE VEDONO CHE **LE SQUADRE SONO 7**.

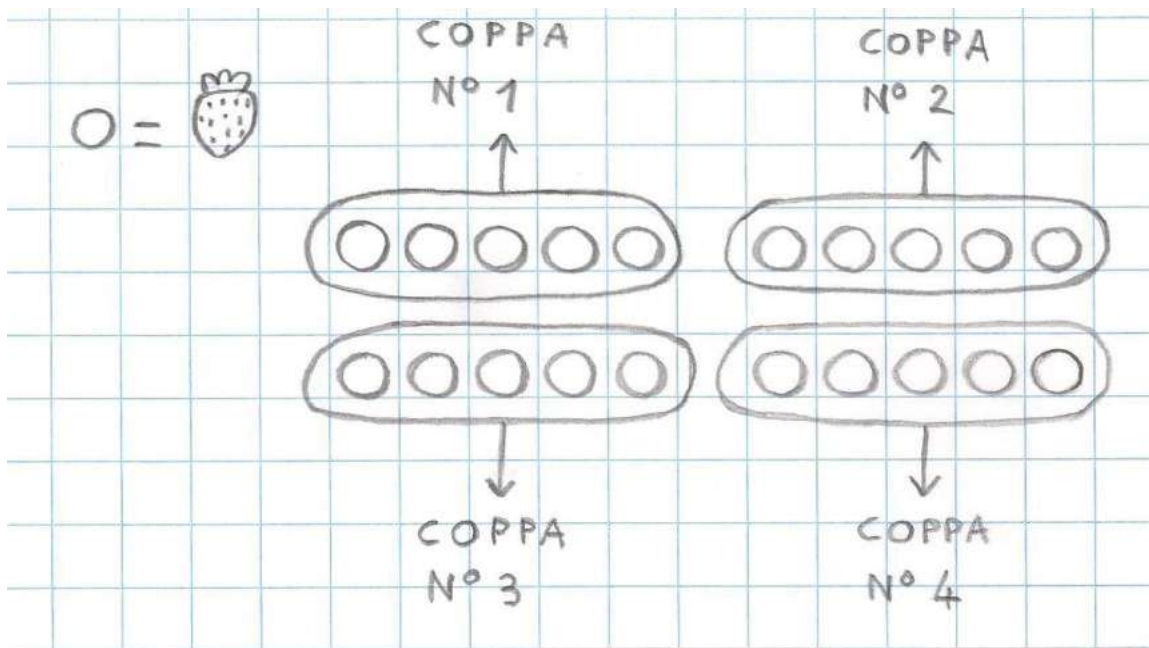


LA STORIA DEL GELATAIO

3)

IL GELATAIO HA **20 FRAGOLE**; DECORA **CIASCUNA COPPA DI GELATO CON 5 FRAGOLE**.
QUANTE COPPE DECORA?

- Dopo aver letto con attenzione, prendi 20 oggettini e fai finta che siano fragole. Immagina di essere tu il gelataio che raggruppa le fragole e conta le coppe che gli servono.
- ORA BISOGNA RAPPRESENTARE LA STORIA CON IL DISEGNO E RAGGRUPPARE.



- ADESSO SI DEVE SCRIVERE LA DIVISIONE E LA RISPOSTA.

$$20 : 5 = 4 \text{ COPPE}$$

↓
FRAGOLE IN CIASCUNA COPPA

↓
FRAGOLE IN TUTTO

RISPOSTA

IL GELATAIO DECORA 4 COPPE.

ADESSO TOCCA A TE!!!

4)

1) Se puoi stampare le schede che ti ho inviato, taglia i problemi lungo la linea tratteggiata e incollali uno per volta sul quaderno.

Se non puoi stampare, ricopia il testo dei problemi sul quaderno.

2) Leggi attentamente più di una volta il testo del problema.

3) Prendi gli oggettini e raggruppalì sul tavolo.

4) Rappresenta con il disegno e raggruppa, fai una freccia vicino ad ogni gruppo e scrivi che cosa hai trovato.

5) Scrivi la divisione e fai le frecce con le spiegazioni.

6) Rispondi alla domanda.

SE HAI DEI DUBBI, RIVEDI LA STORIA DEL GELATAIO CHE DEVI TENERE COME ESEMPIO.

I GRILLI VANNO IN CORTILE!

IN CORTILE CI SONO 30 GRILLI.

LA MAESTRA MILÙ FORMA SQUADRE DA 6 GRILLI CIASCUNA.

QUANTE SQUADRE FORMA LA MAESTRA?

LE PERLE DI ALICE

ALICE HA 24 PERLE.

USA 8 PERLE PER OGNI BRACCIALETTO CHE VUOLE REALIZZARE.

QUANTI BRACCIALETTI REALIZZA?

I PESCIOLINI DI SAMUELE

PER IL SUO COMPLEANNO SAMUELE RICEVE IN REGALO 15 PESCIOLINI.

CON L'AIUTO DEI SUOI GENITORI METTE 3 PESCIOLINI IN OGNUNA DELLE SUE VASCHE.

QUANTE VASCHE GLI SERVONO?

MARGHERITE

LISA HA RACCOLTO 14 MARGHERITE.

HA DECISO DI FORMARE MAZZI DA 7 MARGHERITE CIASCUNO.

QUANTI MAZZI È RIUSCITA A FORMARE?

IMPORTANTE!!!

5)

RICORDA CHE IN QUESTI CASI LA DIVISIONE SERVE PER RAGGRUPPARE UNA QUANTITÀ IN PARTI UGUALI E SCOPRIRE QUANTI GRUPPI SI SONO FORMATI.

I GRUPPI DI VOLTA IN VOLTA POSSONO ESSERE SQUADRE, MAZZI, BRACCIALETTI, COLLANE... O CONTENITORI (COPPE, VASCHETTE, SCATOLE, CESTINI, SACCHETTI, AUTOMOBILI...).

CONTA LE SEGUENTI DIVISIONI MISTE.

$23 : 4 =$ _____	$3 : 3 =$ _____	$58 : 6 =$ _____
$48 : 7 =$ _____	$13 : 5 =$ _____	$36 : 4 =$ _____
$71 : 9 =$ _____	$69 : 8 =$ _____	$42 : 7 =$ _____
$16 : 2 =$ _____	$19 : 3 =$ _____	$35 : 9 =$ _____
$87 : 10 =$ _____	$46 : 6 =$ _____	$17 : 2 =$ _____
$48 : 6 =$ _____	$6 : 5 =$ _____	$12 : 8 =$ _____

CONTA IN COLONNA

$376 + 249 + 85 =$ _____	$62 + 408 + 469 =$ _____	
$515 - 238 =$ _____	$839 - 476 =$ _____	
$46 \times 8 =$ _____	$109 \times 9 =$ _____	$85 \times 7 =$ _____

- RIPASSA LE TABELLINE! MI RACCOMANDO.
- SE VUOI, CONTINUA AD ESERCITARTI ONLINE AL SITO:
<https://www.tabelline.it>
- SE HAI BISOGNO DEL MIO AIUTO, MANDAMI UNA MAIL.

Un forte abbraccio
Maestra Daniela Barbero