


🎯 Aiuta l'ape a raggiungere l'alveare colorando la strada giusta, cioè le caselle che formano il numero 100.



$10 + 80$

$20 + 70$

$20 + 60$

$10 + 90$

$95 + 25$

$80 + 10$

$60 + 20$

$50 + 50$

$85 + 25$

$60 + 40$

$30 + 70$

$20 + 80$

$90 + 0$

$70 + 20$

$90 + 10$

$30 + 50$

$30 + 30$

$80 + 40$

$20 + 60$

$70 + 30$

$40 + 60$

$50 + 50$

$25 + 75$

$60 + 30$

$65 + 45$

$35 + 55$

$40 + 40$

$40 + 60$

$45 + 55$

$10 + 70$

$30 + 70$

$85 + 15$

$10 + 90$

$95 + 5$

$75 + 35$

$50 + 50$

$70 + 10$

$50 + 40$

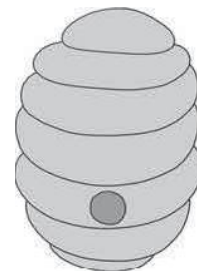
$60 + 60$

$45 + 15$

$15 + 85$

$90 + 10$

$70 + 60$



NOME:

COGNOME:

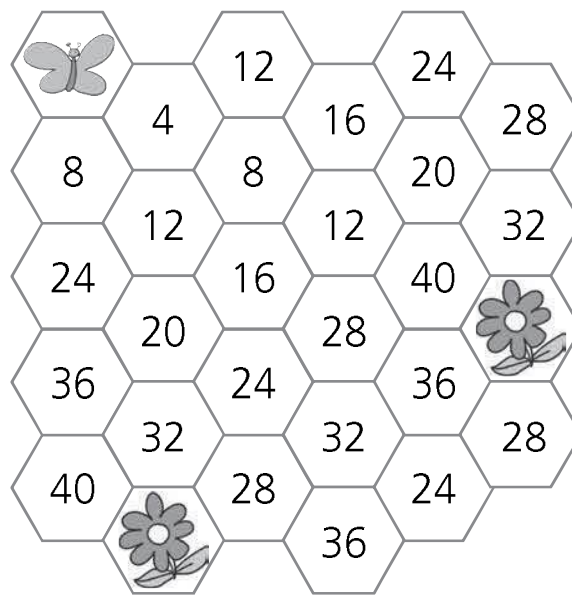
DATA:

Eseguire addizioni e sottrazioni applicando le proprietà delle operazioni per lo sviluppo delle procedure del calcolo mentale.

🌀 Completa la sequenza del 4.

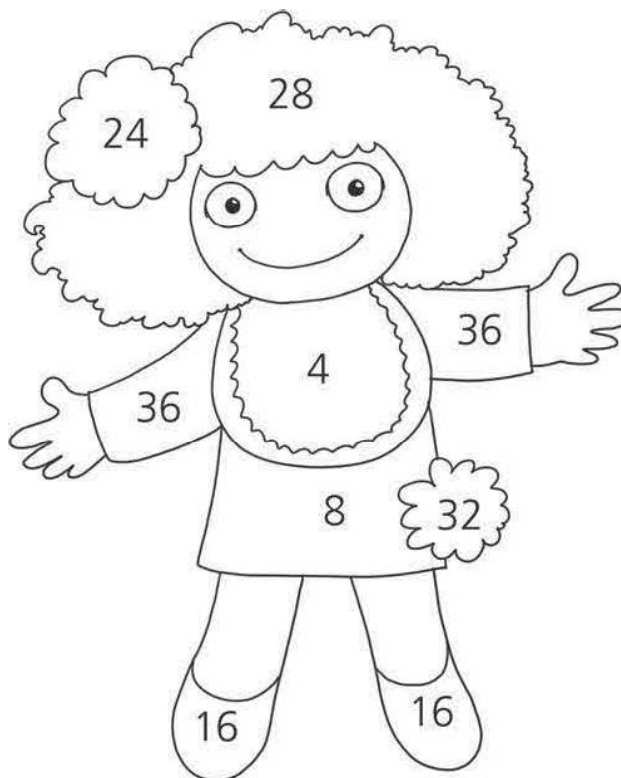
0	4									
---	---	--	--	--	--	--	--	--	--	--

🌀 Qual è la strada che la farfalla deve percorrere per arrivare a un fiore?
Colora in ordine i risultati della tabellina del 4 (da 4 a 40) e lo scoprirai.



🌀 **Scrivi i risultati della tabellina del 4, poi colora la bambola secondo le indicazioni.**

- $4 \times 1 = \dots$ ROSA
- $4 \times 7 = \dots$ MARRONE
- $4 \times 2 = \dots$ ROSSO
- $4 \times 4 = \dots$ NERO
- $4 \times 9 = \dots$ BLU
- $4 \times 6 = \dots$ GIALLO
- $4 \times 8 = \dots$ VERDE



NOME:

COGNOME:

DATA:

Conoscere con sicurezza le tabelline della moltiplicazione.

🌀 Completa la sequenza del 5.

0	5									
---	---	--	--	--	--	--	--	--	--	--

🌀 Collega ogni nuvoletta al finestrino su cui è scritto il risultato della tabellina del 5.

$5 \times 4 =$

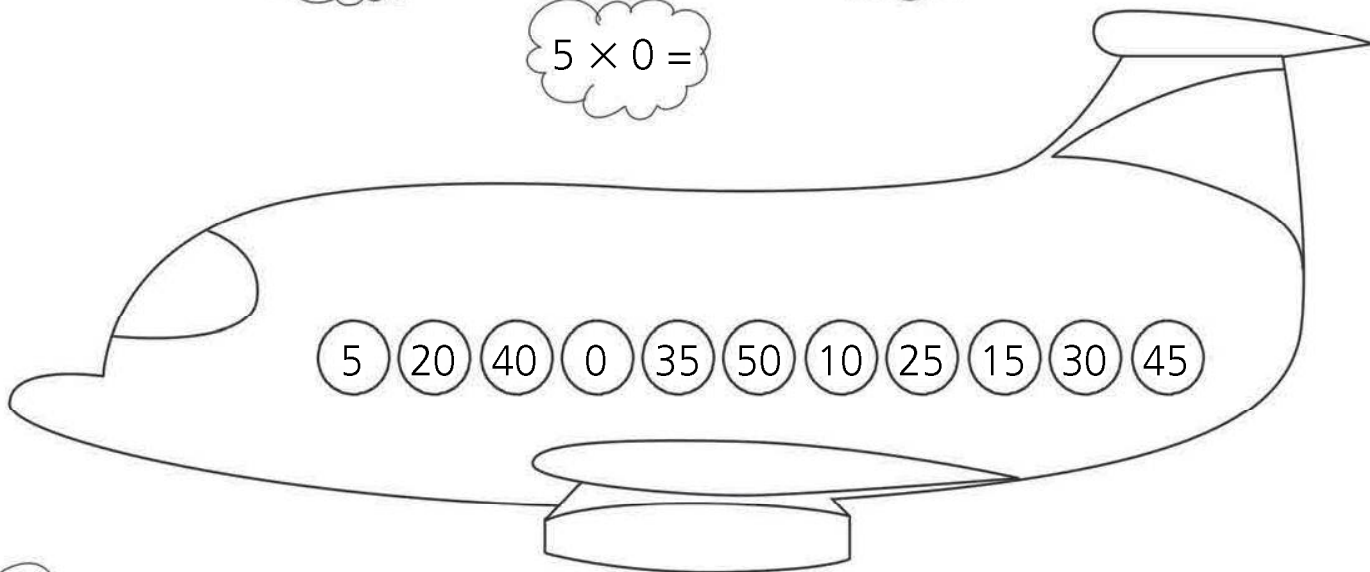
$5 \times 7 =$

$5 \times 1 =$

$5 \times 2 =$

$5 \times 5 =$

$5 \times 0 =$



$5 \times 8 =$

$5 \times 3 =$

$5 \times 9 =$

$5 \times 6 =$

$5 \times 10 =$

NOME:

COGNOME:

DATA:

Conoscere con sicurezza le tabelline della moltiplicazione.

🌀 Completa la sequenza del 6.

0	6									
---	---	--	--	--	--	--	--	--	--	--

🌀 Scrivi il precedente o il successivo dei numeri dati nella sequenza del 6.

30	
----	--

	12
--	----

36	
----	--

	54
--	----

42	
----	--

	24
--	----

48	
----	--

	60
--	----

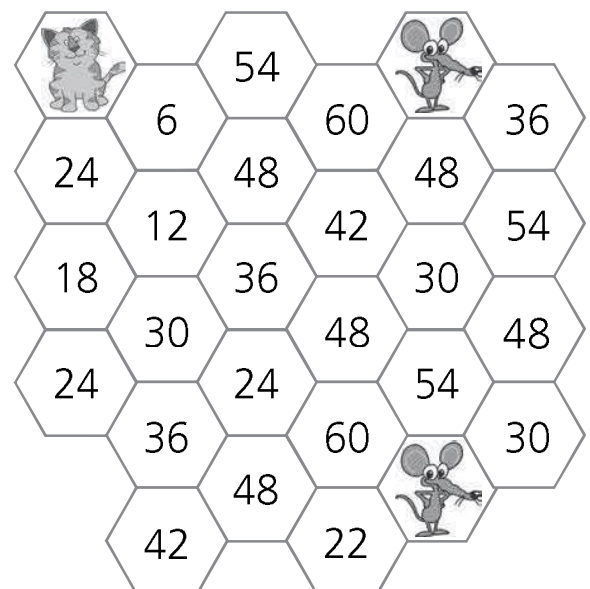
0	
---	--

	18
--	----

54	
----	--

	30
--	----

🌀 Qual è la strada che il gatto deve percorrere per arrivare a un topolino?
Colora in ordine i risultati della tabellina del 6 (da 6 a 60) e lo scoprirai.



NOME:

COGNOME:

DATA:

Conoscere con sicurezza le
tabelline della moltiplicazione.