

RIPRENDIAMO IL NOSTRO CAMMINO.....

Ciao a tutti.

Mi auguro che sappiate lavorare da soli, in autonomia e che abbiate voglia di imparare.

Sicuramente non permetteremo ad un esserino così piccolo di trasformarci in persone senza interessi e voglia di conoscere cose nuove!

Quindi, a noi: prendi il sussidiario di Geografia, Infograficamente, il quaderno e partiamo!

Insieme abbiamo conosciuto le Alpi (pag. 22, 23, 24) e parlato delle Prealpi. Avresti dovuto studiare questo argomento per il rientro dopo Carnevale, ma abbiamo avuto una gran sorpresa e quindi mi sa che dovrai ripassarle come pure la simpatica filastrocca che ha aiutato migliaia di studenti a non dimenticare più il loro nome: MA CON GRAN.....

Ti consiglio di rileggere e/o ristudiare ciò che abbiamo scritto sul quaderno.

Ora affrontiamo un argomento nuovo: gli Appennini che trovi a pag.15,16 e 17. Partiamo da pag.15: - Osserva bene la carta geografica, leggi i nomi in cui è stata suddivisa la lunga " spina dorsale" (colonna vertebrale)e non dimenticarti del piccolo riquadro dove sono ben evidenziati in rosso. -Se hai il computer puoi vedere il video che è segnalato a fondo pagina.

pag.16: - Puoi leggere questa pagina tranquillamente in quanto abbiamo già parlato di cime, passi e trafori. Dopo aver osservato la foto, studia bene la definizione di CALANCHI: i calanchi sono dei solchi profondi che l'acqua ha scavato nel corso del tempo. Completa le richieste di fondo pagina.

pag.17: - questa pagina è molto simile a quella sulle Alpi, ma solo in apparenza: il titolo del primo capoverso "Turismo e parchi naturali" non contiene più " ed energia idroelettrica" e quindi puoi già capire che RIFLETTI! La flora e la fauna sono invece molto simili.

Rileggi e studia bene. Quando sarai sicuro/a puoi andare a pag.20 (quaderno operativo)e completare gli esercizi 1,2 e 3. Controlla con l'aiuto del libro: hai studiato bene? Devi insistere di più?

Per aiutarti a ricordare puoi utilizzare INFOGRAFICAMENTE che alle pag.46 e 47 presenta I PAESAGGI ITALIANI, tra cui le cime più alte delle Alpi e degli Appennini (da studiare i nomi e non i metri; è sufficiente: oltre i 4 mila, sotto i 3 mila).

E ora alcune fotocopie che ti faranno riflettere e ti aiuteranno a ricordare.

Questo lavoro e studio sono per mercoledì prossimo perché ti chiederò di controllare il tuo studio e il tuo impegno e NON VALE FREGARE!

Ciao e buon lavoro a tutti voi!

Maestra Maria Rita

NON STUDIARE I VULCANI. Grazie.

QUALI MONTAGNE CI SONO IN ITALIA?



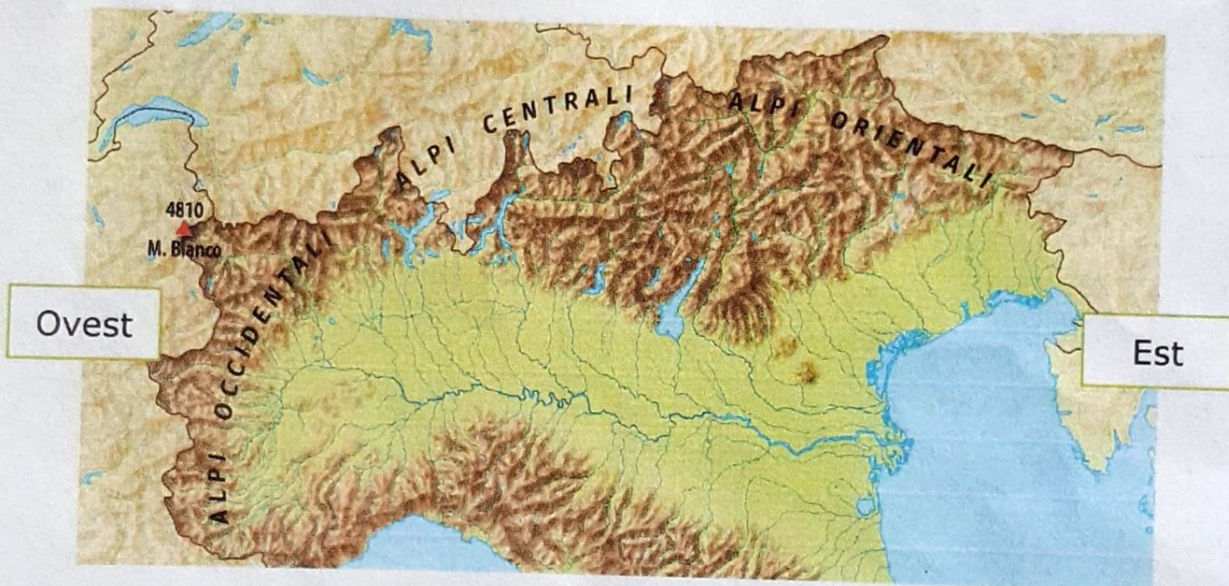
In Italia ci sono due **catene montuose** principali: le **Alpi** e gli **Appennini**.

GLOSSARIO

catene montuose: sono gruppi di montagne.


Le Alpi si trovano nel **Nord Italia** e sono la catena montuosa più alta d'Italia.

Le Alpi vanno da Est a Ovest e si dividono in **Alpi Orientali**, **Alpi Centrali** e **Alpi Occidentali**. Nelle Alpi Occidentali c'è il **Monte Bianco**, la montagna più alta d'Italia.




Le montagne delle Alpi hanno la **cima appuntita** e rocce molto dure. Sulla cima ci sono i **ghiacciai**, cioè grandi distese di neve e ghiaccio.

Tra le montagne ci possono essere zone più basse e pianeggianti, cioè le **valli**. In base alla forma, nelle Alpi si trovano due tipi di valli.



Le **valli a U** sono state formate dai **ghiacciai**.



Le **valli a V** sono state formate dai **fiumi**.

continua da pagina precedente

Gli **Appennini** vanno **da Nord a Sud**.
La cima più alta è l'**Etna** (un vulcano),
poi c'è il Gran Sasso.
Gli Appennini hanno **cime arrotondate** e rocce meno dure di quelle delle Alpi.
Sulle cime degli Appennini non ci sono grandi ghiacciai.
Alcune montagne degli Appennini sono **vulcani**.



Ecco quali animali vivono sulle **Alpi** e sugli **Appennini**.



cervo



volpe



orso bruno



aquila



lupo



lontra



cinghiale



capriolo



Colora la parola giusta.

- Le Alpi vanno da Est a .
- La montagna più alta degli Appennini è .
- Le Alpi sono la catena montuosa più alta dell'Italia.

I rilievi

ALPI

si estendono da ovest a est nell'Italia settentrionale

sono divise in due grandi settori: **Alpi Occidentali** e **Alpi Orientali**.
Più a sud si trovano le **Prealpi**, montagne poco elevate

attività: turismo invernale ed estivo; produzione di legname ed energia idroelettrica; allevamento bovini; coltivazione di meli e viti

APPENNINI

si estendono da nord-ovest in Liguria lungo tutta l'Italia **peninsulare** fino alla Sicilia

sono suddivisi in **tre settori**:
Settentrionale;
Centrale;
Meridionale

attività: allevamento ovini e caprini; estrazione del marmo; coltivazione cereali, viti, frutta; piccole industrie

VULCANI

sono formati da:
- serbatoio magmatico
- camino
- cratere

il magma che fuoriesce in superficie diventa lava

per la loro attività si suddividono in:
- attivi (Etna)
- quiescenti (Vesuvio)
- spenti (Monte Amiata)

	ALPI	APPENNINI
Dove	<ul style="list-style-type: none"> • Si estendono da ovest a est nell'Italia settentrionale. Più a sud si trovano le Prealpi. 	<ul style="list-style-type: none"> • Attraversano l'Italia da nord-ovest a sud, fino alla Sicilia.
Caratteristiche	<ul style="list-style-type: none"> • Sono divise in: <ul style="list-style-type: none"> - Alpi Occidentali; - Alpi Orientali. • Le rocce sono perlopiù granitiche, molto dure e resistenti agli agenti atmosferici. • Sono presenti numerosi ghiacciai. 	<ul style="list-style-type: none"> • Gli Appennini si dividono in tre settori: <ul style="list-style-type: none"> - Settentrionale; - Centrale; - Meridionale. • Le rocce calcaree e argillose sono molto friabili e quindi soggette all'erosione da parte degli agenti atmosferici.
Attività e risorse	<ul style="list-style-type: none"> • L'attività economica principale è il turismo. • Si praticano anche l'agricoltura e l'allevamento. 	<ul style="list-style-type: none"> • L'attività principale è il turismo, soprattutto nei borghi antichi e negli agriturismi. • Sui pascoli si allevano caprini e ovini.
I vulcani	<ul style="list-style-type: none"> • Sono rilievi formati dalla fuoriuscita del magma da una spaccatura della crosta terrestre. 	
Caratteristiche	<ul style="list-style-type: none"> • Sono formati dal serbatoio magmatico, dal camino e dal cratere. • In base alla loro attività sono divisi in: attivi, quiescenti e spenti. 	